

## 数 学 试 卷

(满分 100 分,60 分钟完卷)

题号	一	二	三	四	五	六	总分	总分人
得分								

得 分	评卷人

## 一、我会填空。(每空 1 分,共 21 分)

- 6 时 25 分至 7 时,中间经过了( )分钟。
- 小明家距学校 600 米,求往返一次共多少米,列式是( )。
- 513 的 3 倍是( ),7 个 128 是( )。
- 1 袋面粉重 25( ),1 个鸡蛋重 45( )。
- 黑板长 40( ),橡皮长 48( )。
- 17 个本子分给 5 个同学,平均每个同学分得( )个本子,还余( )个。
- 小丽有 3 双袜子,4 双鞋,她一共有( )种不同的搭配方法。
- 把一个蛋糕平均分成 2 分,1 分是它的( )。
- 长方形、正方形、平行四边形都是( )边形。
- 边长为 5 厘米的正方形,周长是( )厘米。
- 有一根 32 米长的钢管,把它锯成同样长度的 4 根,那么每根钢管长( )分米。
- 在○里填上“>”、“<”、或“=”。

3 时○150 分

5 千米○4800 米

4 分米○39 厘米

6 厘米○60 毫米

7000 克○7 吨

3 吨○3500 千克

得 分	评卷人

## 二、我会判断。(对的在括号里打“√”,错的打“×”)(共 10 分)

- 正方形的周长一定是它边长的 4 倍。( )
- $\frac{9}{10}$  读作十分之九。( )
- $49 \div 6 = 7 \cdots 7$ 。( )
- $125 \times 8$  的积的末尾有 2 个 0。( )
- 3 个  $\frac{1}{4}$  和 3 个  $\frac{1}{5}$  相比,3 个  $\frac{1}{5}$  比较大。( )

得 分	评卷人

### 三、我会选择。(把正确答案的序号填在括号里)(共 10 分)

18. 余数是 6 的除法算式,除数一定( )。

- ① 大于 6                      ② 小于 6                      ③ 等于 6

19. 下面差是 320 的算式是( )。

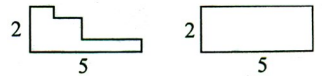
- ①  $200+120$                       ②  $720-400$                       ③  $856-326$

20. 盒子里放着 8 个红球,5 个蓝球,2 个黄球,任意摸出一个,最可能摸到( )。

- ① 红球                      ② 黄球                      ③ 蓝球

21. 右图中,甲、乙两图的周长相比( )。

- ① 甲长                      ② 乙长                      ③ 一样长



22. 四个同学进行乒乓球比赛,每 2 人赛一场,一共要赛( )场。

- ① 5                      ② 6                      ③ 7

得 分	评卷人

### 四、我会计算。(共 21 分)

23. 直接写出得数。(9 分)

- (1)  $20 \times 3 =$                       (2)  $200 \times 3 =$                       (3)  $2000 \times 3 =$   
(4)  $240 \div 3 =$                       (5)  $2400 \div 3 =$                       (6)  $270 + 90 =$   
(7)  $15 + 0 \times 15 =$                       (8)  $\frac{3}{5} + \frac{2}{5} =$                       (9)  $1 - \frac{8}{9} =$

24. 列竖式计算。(12 分)

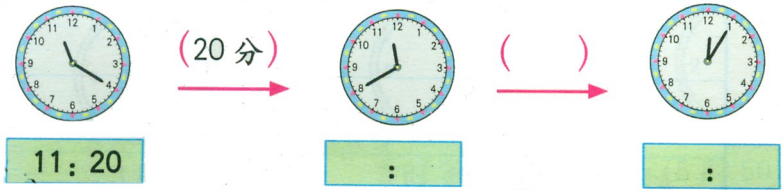
- (1)  $983 + 117 =$                       (2)  $806 - 524 =$

- (3)  $287 \times 6 =$                       (4)  $53 \div 6 =$

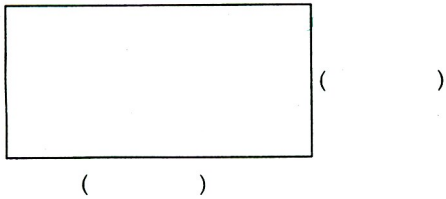
得 分	评卷人

五、我会操作。(共 11 分)

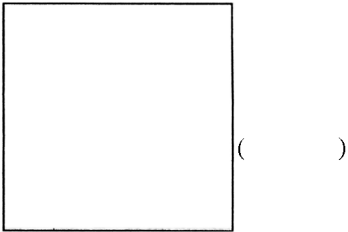
25. 根据钟面上的时间,填空和写出时间。(3 分)



26. 请你量一量下面图中长方形的长、宽和正方形的边长,并分别求出它们的周长。(8 分)



长方形的周长:



正方形的周长:

得 分	评卷人

六、我能解决问题。(共 27 分)

27. 凌云山景区上午有游客 925 人,中午有 825 人离去。下午又来了 680 位游客,这时景区内有多少游客?(5 分)

28. 小利把一块蛋糕的 $\frac{2}{4}$ 分给妈妈, $\frac{1}{4}$ 分给爸爸,剩下的分给自己。爸爸和妈妈一共分得这块蛋糕的几分之几?(5 分)

29. 学校准备 60 份奖品,平均发给三年级 7 个班,每个班最多可以得到多少份奖品? 还剩下多少份?(7 分)

30. 有两个同样大小的长方形,长是 8 厘米,宽是 4 厘米。(10 分)

(1)把它们拼成一个正方形,求正方形的周长。

(2)把它们拼成一个长方形,求长方形的周长。

## 数学试题参考答案及评分意见

### 一、我会填空,每空 1 分,共 21 分

1. 35    2.  $600 \times 2$     3. 1539    896    4. 千克    克    5. 分米    毫米    6. 3    2    7. 12    8.  $\frac{1}{2}$   
9. 四    10. 20    11. 80    12.  $> > > = < <$

### 二、我会判断,每小题 2 分,共 10 分

13.  $\checkmark$     14.  $\checkmark$     15.  $\times$     16.  $\times$     17.  $\times$

### 三、我会选择,每小题 1 分,共 10 分

18. ①    19. ②    20. ①    21. ③    22. ②

### 四、我会计算。共 21 分。

23 题每小题 1 分,计 9 分。

- (1)60    (2)600    (3)6000    (4)80    (5)800    (6)360    (7)15    (8)1    (9) $\frac{1}{9}$

24 题 12 分,每小题 3 分,每小题列竖式计算正确评 2 分,写横式得数正确评 1 分。

- (1)1100    (2)282    (3)1722    (4) $8 \cdots \cdots 5$

### 五、我会操作。共 11 分

25 题 3 分,每空 1 分。26 题 8 分,量出长方形、正方形的长、宽、边长正确各评 0.5 分,带单位名称正确各评 0.5 分;计算长方形、正方形的周长各评 2.5 分,列式正确评 1 分,计算正确评 1 分,带单位名称正确各评 0.5 分。长方形的长、宽分别是 4cm,2cm,长方形的周长是 12cm。正方形的边长是 3cm,正方形的周长是 12cm。

### 六、我能解决问题。共 25 分。27、28 每题 5 分,列式正确评 2 分,计算正确评 2 分,写答语正确和带单位名称正确各评 0.5 分,28 题写答语正确评 1 分。29 题 7 分,第 1 问题列式正确评 2 分,计算正确评 2 分,写答语正确和带单位名称正确各评 0.5 分;第 2 小题写答语正确评 1 分,带单位名称正确评 1 分。30 题 10 分。(1)(2)小题各 5 分,列式正确评 2 分,计算正确评 2 分,写答语正确和带单位名称正确各评 0.5 分。

27. 780(人)    28.  $\frac{3}{4}$   
29. 8(份) $\cdots \cdots 4$     30. (1)32(厘米)    (2)40(厘米)